

NAAM

GR

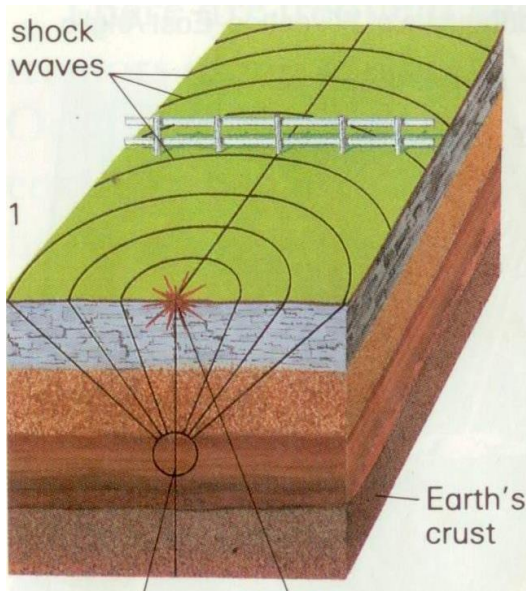
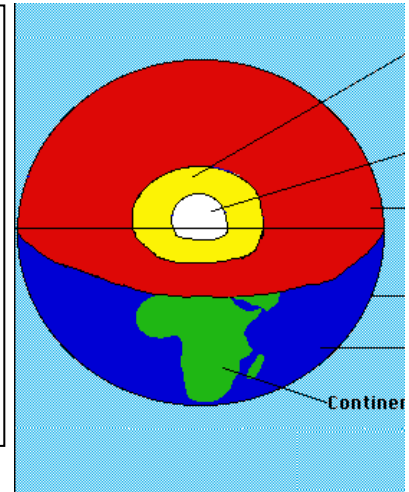
Lees die onderstaande en kies die regte woord tussen hakies en omkring dit.

Die aarde bestaan uit verskillende lae. Noem die verskillende dele deur na die tekening aan die regterkant te kyk.

Die gedeelte in blou staan bekend as die **aardkors/oppervlak** .

Die gedeelte in rooi staan bekend as die **mantel/binneste laag**.

Die gedeelte in wit staan bekend as **die kern/sentrum** van die aarde.




Die kors van die aarde bestaan uit **plate/berge** wat gedurig beweeg.

Energie/krag word vrygestel wanneer tektoniese plate teen mekaar skuur, vashaak en weer losbreek.

Kyk na die illustrasie links: Die fokuspunt van 'n aardbewing bo die aardkors word die **episentrum/ golwe** genoem

'n Aardbewing versprei op die oppervlak deur **skokgolwe/branders**.



Die aardewing in Ceres en omgewing het plaasgevind op **29 September 1969/ 19 September 1970**.

Wat was die lesing op die Richterskaal? **6.3 /3.6**

Wat het die mense gedink wat het gebeur toe hulle sien hoe die berge brand ? **die einde van die aarde het aangebreek/oordeelsdag.**